

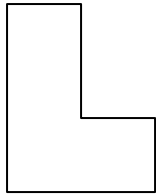


黒ぬり図形 -2

年 月 日

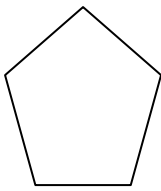
ひだり す くる みぎ えら ばんごう か
左の図を黒くぬったものを右から選び〔 〕に番号を書きましょう。

①



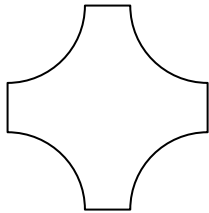
〔 〕

②



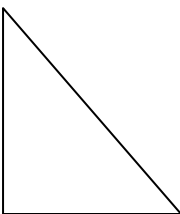
〔 〕

③



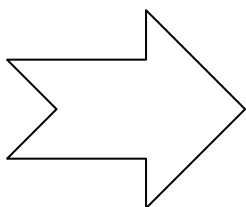
〔 〕

④



〔 〕

⑤



〔 〕